


FICHE 2 - salle 3

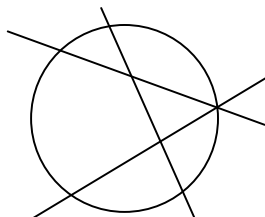
... Tout est en **ordre**

Naissance et développement d'une ville gallo-romaine

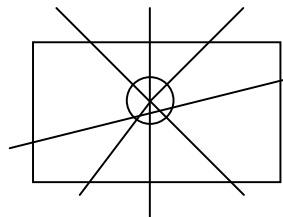
1- Observe la maquette salle 3. Regarde bien le tracé des rues puis compare le plan de la ville avec les trois plans ci-dessous. Quel plan les Romains ont-ils choisi pour la ville ?



plan A (plan orthogonal)



plan B (absence de plan)




plan C (plan radioconcentrique)

2- Note sur le plan les principaux monuments (en utilisant leur numéro)



- ① le théâtre
- ② l'amphithéâtre
- ③ la nécropole (cimetière)
- ④ le *forum* (place)
- ⑤ le pont sur la Vienne

3- Fais le plan rapide d'un îlot (quartier) de ton choix dans le rectangle en utilisant la légende :



||| rues

■ bâtiments

••••• jardins et cours

Augustoritum, une ville romaine